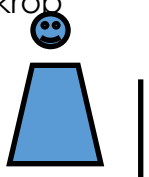


FOTO JAGT I MATEMATIK

Tag et billede af en genstand, der opfylder de krav der er i hvert felt

En pind du mener er tæt på en meter. Pinden skal stå op ad din krop



En cylinder, hvor man kan se bund og højde

En ret vinkel

En genstand der er tæt på at være formet som en terning

En cirkelformet ting hvor I mener at diameteren er 10 cm. Jeres hånd skal ses på

En ting der har en stump vinkel

En genstand der har mindst tre parallelle sider/linjer

En spejling

En genstand der har over en spejlingsakse/symmetriakse

En ting der er spidsvinklet

En genstand I vurderer til at være mindst 10 m lang/høj og et "bevis" på det

En genstand man kan beregne arealet af

En diagonal

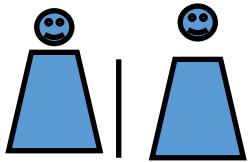
En genstand der har en radius på ca 10 cm. Vis også din hånd på billedet.

En femkant (pentagon)

FOTO JAGT I MATEMATIK

Tag et billede af en genstand, der opfylder de krav der er i hvert felt

En pind du mener er
lige så høj som to af jer-
tilsammen. Bevis det på
billede



En pyramide

En ret vinklet gen-
stand

En genstand der
er formet som en
trekants prisme

En cirkelformet
ting, hvor I mener
at diameteren er
1 cm. Jeres finger
skal ses på bille-

En ting der har to
stumpe vinkler

En genstand der
har mindst to pa-
rallelle sider/linjer
og en ret vinkel

En spejling

En genstand der
har over en spej-
lingsakse/
symmetriakse

En genstand, der
er spidsvinklet

En genstand I vur-
derer til at være
mindst 10 m lang/
høj og et "bevis"
på det

En genstand
man kan
beregne arealet
af

En genstand
hvor der kan
laves mindst tre
diagonaler

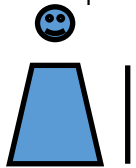
En genstand der
har en radius på
ca 20 cm. Vis og-
så din hånd på
billedet.

En femkant
(pentagon)

FOTO JAGT I MATEMATIK

Tag et billede af en genstand, der opfylder de krav der er i hvert felt

En pind du mener er tæt på en halv meter. Pinden skal stå op ad din krop



En cylinder, hvor man kan se bund og højde

En genstand der burde være retvinklet med er det ikke

En genstand der er formet som en kugle

En cirkelformet ting hvor I mener at diameteren er 2 cm. Jeres hånd skal ses på bille-

En trekant som er spidsvinklet

En genstand der har mindst tre parallelle sider/linjer

En genstand der er kasseformet og er mindst dobbelt så lang som den er bred

En genstand der har over en spejlingsakse/symmetriakse

En ting der er spidsvinklet

En genstand I vurderer til at være mindst 5 m lang/høj og et "bevis" på det

En genstand man kan beregne rumfanget af

To diagonaler i samme figur

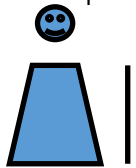
En tabel

En sekskant (hexagon)

FOTO JAGT I MATEMATIK

Tag et billede af en genstand, der opfylder de krav der er i hvert felt

En pind du mener er tæt på en halv meter. Pinden skal stå op ad din krop



En genstand der både er lidt rund og rektangulær

En genstand der burde være spidsvinklet med er det ikke

En tabel med både tekst og tal

En cirkelformet ting, hvor I mener at diameteren er 20 cm. Jeres hånd skal ses på

En genstand der har form som en rombe

En genstand der har mindst fire parallelle sider/linjer

En genstand der er kasseformet og er mindst dobbelt så lang som den er bred

En genstand der har over en spejlingsakse/symmetriakse

En ting der er spidsvinklet

En genstand I vurderer til at være mindst 10 m lang/høj og et "bevis" på det

En genstand I mener er dobbelt så lang som den er bred

Tre diagonaler i samme figur

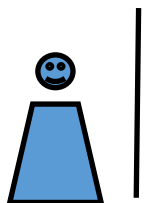
En genstand der er formet som en kugle

En femkant (pentagon)

FOTO JAGT I MATEMATIK

Tag et billede af en genstand, der opfylder de krav der er i hvert felt

En pind du mener er tæt på to meter. Pinden skal stå op ad din krop



En genstand der har en form som et parallelogram

En genstand der har en radius på ca 5 cm. Vis også din hånd på billedet.

Et diagram

En cirkelformet ting hvor I mener at diameteren er 10 cm. Jeres hånd skal ses på

En genstand der er en firkant uden at være et kvadrat eller et rektangel

En genstand der har mindst fire parallelle sider/linjer

En genstand, der har et mønster

En genstand der har netop to spejlingsakser/symmetriakser

En ting der har mindst tre spidse vinkler

En genstand I vurderer til at være mindst 5 m lang/høj og et "bevis" på det

En genstand der har et areal på ca. 1 m²

En diagonal

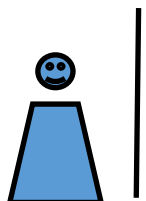
En stump vinkel

En femkant (pentagon)

FOTO JAGT I MATEMATIK

Tag et billede af en genstand, der opfylder de krav der er i hvert felt

En pind du mener er tæt på to meter. Pinden skal stå op ad din krop



En genstand der har en form som et parallellogram

En spids vinkel

Fraktaler—en figur der gentage sig selv mange gange

En firkant der hverken er et rektangel eller et kvadrat

En rund genstand der har en radius på 10 cm. Din hånd skal også være på billedet

En genstand der har mindst 6 parallelle sider/linjer og to rette vinkler

En figur der kan drejes, og dække sig selv

En genstand der har netop to spejlingsakser/symmetriakser

En ting der har tre spidse vinkler

En genstand I vurderer til at være mindst 5 m lang/høj og et "bevis" på det

En genstand der har et areal på ca. 1 m²

En cirkelformet ting hvor I mener at diameteren er 10 cm. Jeres hånd skal ses på

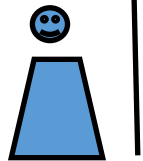
En genstand der har en radius på ca 5 cm. Vis også din hånd på billedet.

En femkant (pentagon)

FOTO JAGT I MATEMATIK

Tag et billede af en genstand, der opfylder de krav der er i hvert felt

En pind du mener er
lige så høj som din læ-
rer. Pinden skal stå op
ad din krop



En genstand der
har en form som
en rombe

En ret vinkel

En genstand der
er tæt på at væ-
re formet som en
terning

En cirkelformet
ting hvor I mener
at diameteren er
10 cm. Jeres
hånd skal ses på

En genstand der
er en firkant uden
at være et kva-
drat eller rektan-
gel

En genstand der
har mindst tre pa-
rallelle sider/linjer

En genstand der
har form som et
parallelogram

En genstand der
har over to spej-
lingsakser/
symmetriakser

En ting der er
stumpvinklet

En genstand der
har netop to spej-
lingsakser/
symmetriakser

En genstand
I mener har et
areal på 100 cm^2
En af jer skal være
med på billedet

En genstand der
har to diagonaler

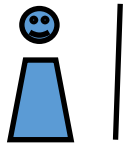
En genstand der
har en radius på
ca 8 cm. Vis også
din hånd på bille-
det.

En ottekant
(octagon)

FOTO JAGT I MATEMATIK

Tag et billede af en genstand, der opfylder de krav der er i hvert felt

En pind du mener er tæt på 1,5 meter. Pinden skal stå op ad din krop



En genstand der har en form som et parallelogram

En ret vinkel

En genstand der er tæt på at være formet som en terning

En cirkelformet ting hvor I mener at diameteren er 10 cm. Jeres hånd skal ses på

En genstand der er en firkant uden at være et kvadrat eller rektangel

En genstand der har mindst tre parallelle sider/linjer

En spejling

En genstand der har over en spejlingsakse/symmetriakse

En ting der er spidsvinklet

En genstand der har netop to spejlingsakser/symmetriakser

En genstand I mener har et areal på 50 cm²

To diagonaler

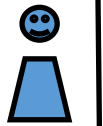
En genstand der har en radius på ca. 10 cm. Vis også din hånd på billedet.

En femkant (pentagon)

FOTO JAGT I MATEMATIK

Tag et billede af en genstand, der opfylder de krav der er i hvert felt

En genstand du mener er tæt på tre gange så høj som dig. Pinden skal stå op ad din krop



En genstand der har en form som en rombe

En spids vinkel

En genstand der har mindst fire parallelle sider/linjer

En cirkelformet ting hvor I mener at diameteren er 10 cm. Jeres hånd skal ses på

En ting der har en stump vinkel

En genstand der har mindst tre parallelle sider/linjer

En rombe

En genstand der har over en spejlingsakse/symmetriakse

En ting der er spidsvinklet

En genstand I vurderer til at være mindst 10 m lang/høj og et "bevis" på det

En genstand, der er kasseformet og er mindst dobbelt så lang som den er bred

En prisme med trekants bund (Toblerone format)


En genstand der har en radius på ca 20 cm. Vis også din hånd på billedet.

En genstand der er en firkant uden at være et kvadrat eller rektangel

FOTO JAGT I MATEMATIK

Tag et billede af en genstand, der opfylder de krav der er i hvert felt

En pind du mener er tæt på en halv meter. Pinden skal stå op ad din krop



En cylinder, hvor man kan se bund og højde

En ret vinkel

En genstand der har mindst fire parallelle sider/linjer

En cirkelformet ting hvor I mener at diameteren er 10 cm. Jeres hånd skal ses på

En ting der har en stump vinkel

En genstand der har mindst tre parallelle sider/linjer

En spejling

En genstand der har over en spejlingsakse/symmetriakse

En ting der er spidsvinklet

En genstand I vurderer til at være mindst 10 m lang/høj og et "bevis" på det

En genstand der er kasseformet og er mindst dobbelt så lang som den er bred

En diagonal

En genstand der har en radius på ca 10 cm. Vis også din hånd på billedet.

En genstand der er en firkant uden at være et kvadrat eller rektangel